

A-11

Всероссийская олимпиада школьников 2020-2021 учебный год
Школьный этап. История, 5-6 класс.
Время выполнения 60 минут. Максимальное количество баллов – 80.
Вариант 1

Задание № 1. Выберите правильный ответ (3 балла)

А. Укажите название древнего народа, проживавшего на территории современного г. Красноярска

- 1) уйгуры
- ② качинцы
- 3) монголы

Б. Потомки древнейших жителей Рима назывались

- ① аристократы
- 2) патриции
- 3) плебеи

В. Знаки египетской письменности называются

- 1) пиктограммы
- 2) буквы
- ③ иероглифы

Ответ:

195

30

	А	Б	В
	2 +	1 +	3 +

Задание № 2. (3 балла)

Выберите из предложенного списка деятелей римской истории, живших в одно время

- 1. Марк Туллий Цицерон
- 2. Публий Корнелий Сципион
- 3. Гай Юлий Цезарь
- 4. Тит Флавий Веспасиан
- 5. Марк Юний Брут.

15

Ответ: 3, 5

Задание № 3. (9 баллов)

По какому принципу образованы ряды? Запишите краткое пояснение.

- 1. Брахманы, кшатрии, вайшьи, шудры
- 2. Афонтова гора, грот Двуглазка, Таштык I, Усть-Кова
- 3. Нил, Тигр, Евфрат, Ганг, Хуанхэ, Янцзы

Ответ:

9

	1	2	3
пояснение	Это все народы —	Это все горы —	Это все реки 35

Задание № 4. (9 баллов)

Выберите лишнее понятие в списке. Кратко поясните свой выбор.

- Осирис, Анубис, ~~Гермес~~, Ра
- Рубило, скребло, ~~соха~~, проколка.
- Шумер, Аккад, Вавилон, ~~Египет~~

Ответ:

	1	2	3
пояснение	<p>Это все боги египта а Гермес я не знаю кто</p> <p>35</p>	<p>Это все орудия труда а соха это пицца</p> <p>15</p>	<p>Там все имена богов а Египет это город</p>

45

Задание № 5. (10 баллов)

Установите последовательность событий

А.

Б.

- Поход на Сицилию
- Разгром отрядов Спартака Крассом
- Раскрытие заговора гладиаторов
- Поход на север Италии
- Образование лагеря на горе Везувий









- Появление неандертальцев
- Расселение человека по всей планете
- Появление австралопитеков
- Появление питекантропов
- Появление «человека разумного»

Ответ:

А	Б
1, 5, 3, 2, 4	1, 4, 5, 3, 2

Задание № 6. (10 баллов)

Со временем написание китайских иероглифов (письменных знаков) менялось. Соотнесите раннее и позднее написание иероглифа с его значением и занесите в таблицу соответствующие буквы и цифры.

Древний иероглиф	Современный иероглиф	Значение иероглифа
А 	1) 	Солнце
		древний: 2, современный: 1
Б 	2) 	Лошадь
		древний: а, современный: 3) + 25
В 	3) 	Рот
		древний: б, современный: 2) -
Г 	4) 	Огонь
		древний: в, современный: 4) + 25

45

Задание № 7 (8 баллов)

Прочтите отрывок из мифа и впишите пропущенные слова.


Люди совершали дурные поступки и даже преступления. Множилось зло на земле. Решил тогда Бог устроить (1) наводнение и уничтожить все живое. Пожалел Бог только (2) кай — доброго и богобоязненного человека. По велению Бога этот человек построил (3) ковчег — особый корабль, на который вошли его жена и дети и по паре всякой живой твари. Все люди погибли, кроме тех, кто был на этом на корабле. Через многое время прибыл корабль к горе (4) Атлас. Бывшие в корабле люди и звери вышли наружу и вновь наполнилась земля жизнью.

Ответ :

1	2	3	4
наводнение —	Кай 20	ковчег 20	Атлас 20

Задание №8 (6 баллов)

Рассмотрите рисунок. Он взят из самой древней египетской книги.



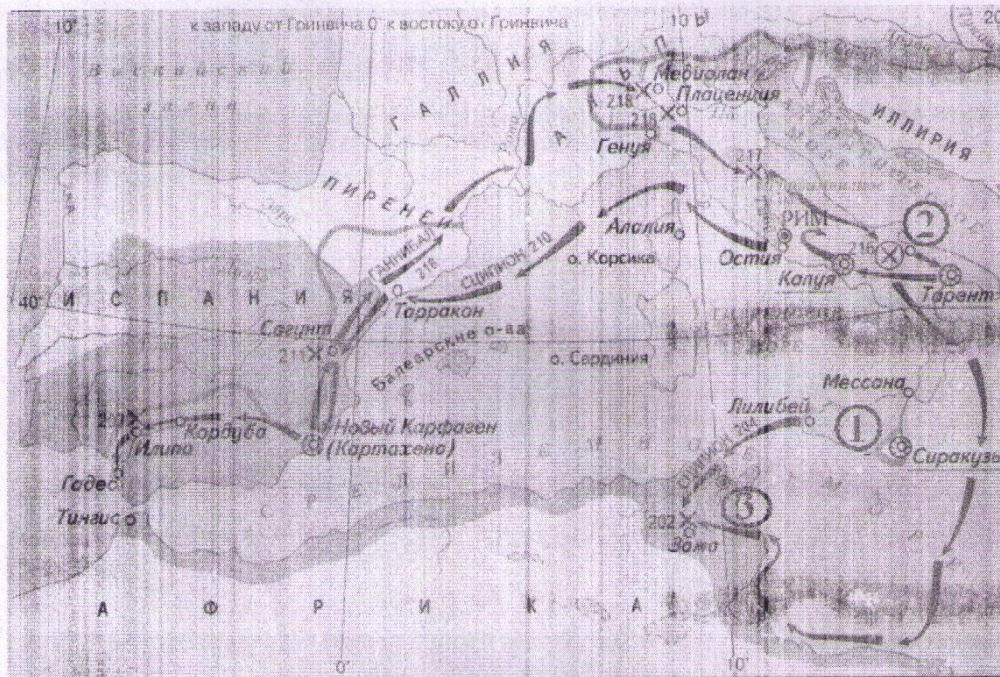
1. Укажите название книги
2. Назовите материал, из которого она изготовлена
3. Назовите событие, изображённое древними египтянами

Ответ:

1	2	3
Боги древнего Египта —	Папирус 10	Собрание древних богов —

Задание № 9 (12 баллов)

Выполните задания по карте войны Древнего Рима и карфагенян (264-146 гг. до н.э.)



1. Как в исторической науке называют войны Рима с карфагенянами?
2. Запишите название острова, на котором произошло столкновение интересов Рима и карфагенян, обозначенного на карте цифрой ①.
3. Укажите название городка, обозначенного на схеме цифрой ②, подле которого в 216 г. до н.э. произошла неудачная для римлян битва.
4. Римский цензор Марк Порций Катон каждую свою речь в Сенате по любому вопросу заканчивал словами: «Я полагаю, что ... должен быть разрушен». Запишите название города и одноименного государства пропущенное в тексте. Этот город обозначен на схеме цифрой ③.

Ответ:

1	2	3	4
незнаю	① не знаю	незнаю	незнаю

Задание № 10 (12 баллов)

Прочитайте документ

(Персидский царь) по возвращении из Европы в Азию ... снарядил флот из 500 кораблей. Начальниками флота он поставил Датиса и Артаферна, предоставив им 200 тыс. пехотинцев и 10 тыс. всадников, причиной же похода выставил свою вражду к афинянам, с помощью которых ионийцы овладели Сардами. В это время ни один город не оказал помощи Афинам — только Платеи, приславшие тысячу воинов. После их прибытия число бойцов достигло 10 тыс., и эта маленькая армия горела удивительным боевым духом. И вот, выстроившись на другой день в боевом порядке у подножия горы, на довольно пересеченной, они вступили в сражение, рассчитывая, что благодаря прикрытию высокой горы и древесному ряду, мешающему коннице, многочисленные враги не смогут их окружить. Датис понимал, что поле боя неудобно для персов, однако ... он поставил в строй 100 тыс. пехотинцев и 10 тыс. всадников и начал битву. В этом

вражении афиняне проявили несравненную доблесть, разгромив десятикратно сильнейшего врага и наведя на персов такой страх, что те бежали не в лагерь, а на корабли. Не было еще на свете более славной победы.

1. Как звали правителя, направившего персидское войско в Грецию?
2. Как называется место, в котором высадились персы и произошла битва?
3. В каком году произошла эта битва?
4. По одной из легенд, паника произошедшая в рядах персов, явилась следствием вмешательства одного из греческих божеств в битву. Само слово «паника» происходит от имени этого бога. Какой бог помог афинянам в битве?

Ответ:

1	2	3	4
	Греция		Афина