

11 А-17

7 лет

**Всероссийская олимпиада школьников 2021-2022 учебный год**  
**Школьный этап. История, 7 класс, задания.**  
**Время выполнения 60 минут. Максимальное количество баллов – 100.**

**Задание №1.** Выберите один правильный ответ. (За каждый правильный ответ – 1 балл, максимальное количество баллов за задание – 5 баллов). *Примерное время выполнения – 5 минут.*

- 1.1. Укажите дату окончания истории Древнего мира и начала истории Средних веков.  
 А) 476 г.                      Б) 395 г.                      В) 410 г.                      Г) 1453 г.
- 1.2. Какое из перечисленных понятий НЕ является названием органа сословной представительности, возникшего в Средневековье?  
 А) кортесы                       В) духовный орден  
 Б) Генеральные штаты                      Г) парламент
- 1.3. О какой исторической личности идет речь? Старший сын короля Пипина Короткого, создал территории нынешней Франции большое и сильное государство. После 33 военных походов, проведя чуть ли не всю жизнь в седле, он смог распространить свою власть на территорию почти всей Западной Европы.  
 А) Хлодвиг                       В) Карл Великий  
 Б) Юстиниан I                      Г) Иоанн Безземельный
- 1.4. Прочитайте отрывок произведения и укажите князя, о котором в нём идёт речь. «Через пошёл войной на Корсунь. Корсуняне же крепко сражались из города. Тогда он сказал: “Если сдадитесь, буду стоять три года”. Они же не послушались и стояли шесть месяцев. А в Корсуне был человек, по имени Анастас, он написал на стреле и пустил её к этому князю: “К колодцу в восточной стороне города по трубам поступает в город вода; перекопав, переймёшь её”».  
 А) Олег Вещий                       В) Владимир Святой  
 Б) Владимир Мономах                      Г) Ярослав Мудрый
- 1.5. В каком году в нашей стране отмечали 75-летие Победы в Великой Отечественной войне?  
 А) 2015 году                      В) 2010 году  
 Б) 2020 году                      Г) 2005 году

120

50

1.1	1.2	1.3	1.4	1.5
А 1	В 1	В 1	В 1	Б 1

**Задание №2.** Выберите несколько правильных ответов. (За каждый правильный ответ + 1 балл, максимальное количество баллов за задание – 6 баллов). *Примерное время выполнения – 4 минуты.*

- 2.1. Выберите события, относящиеся к периоду феодальной раздробленности Руси.  
 А) Битва на р. Калка                      Г) основание Москвы  
 Б) Крещение Руси                      Д) Походы на Константинополь князя Игоря  
 В) Ледовое побоище                      Е) Строительство Софийского собора в Новгороде

3

<input checked="" type="checkbox"/> В)	<input checked="" type="checkbox"/> Г)
--	--

2.2. Какие из перечисленных улиц города Красноярска названы в честь космонавтов?

- А) имени Водяникова                      Г) имени Тотмина  
 Б) имени Николаева                       Д) имени Быковского  
 В) имени Терешковой                      Е) имени Цукановой

2

<input checked="" type="checkbox"/> В)	<input checked="" type="checkbox"/> Д)
--	--

**Задание №3.** По какому принципу образован ряд? (За каждый полный ответ – 3 балла, ответ, требующий дополнения – 1 балл, максимальное количество баллов за задание – 9 баллов). *Примерное время выполнения – 6 минут.*

3.1. «Сказание о Мамаевом побоище», «Слово о погибели земли русской», «Задонщина».

3.2. Финифть, зернь, чернь, скань.

3.3. Рязов Борис Яковлевич, Поздеев Андрей Геннадьевич, Суриков Василий Иванович.

Русские художники

Задание №4. Выберите лишнее понятие из списка. Кратко поясните свой выбор. (Правильный ответ – 2 балла, за пояснение – 2 балла, максимальное количество баллов за задание – 4 балла). Примерное время выполнения – 4 минуты.

4.1. Пала, аббаты, рыцари, епископы, монахи.

Пала - лавный, а остальные - отдельные  
слен общества

4.2. Поляне, северяне, радимичи, варяги.

Варяги - враги земли Русской, а остальные -  
народы, населявшие Русь

Задание №5. Восстановите хронологическую последовательность дат и событий. Запишите ответ в виде последовательности номеров в задании. (За каждую правильную последовательность – 2 балла, если верная последовательность восстанавливается путём перестановки любых двух, стоящих рядом, символов – 2 балла, максимальный балл за все задание – 8 баллов). Примерное время выполнения – 6 минут.

5.1.

1) IX в.;

2) 476 г. до н.э.;

3) I век до н.э.;

4) 988 г.

5) 1240 г.;

6) II век до н.э.

2	3	6	1	4	5
---	---	---	---	---	---

5.2.

1) Падение Византийской империи;

2) Возникновение Английского парламента;

3) Столетняя война;


4) Распад Франкской империи;

5) Созыв Генеральных штатов во Франции;


6) Возникновение государств у арабов.

1	6	4	3	2	5
---	---	---	---	---	---


Задание №6. Перед Вами изображения знаменитых памятников русской архитектуры до XV века. Заполните таблицу: во вторую колонку таблицы запишите название изображённого архитектурного памятника, в третью колонку таблицы запишите имя правителя (князя, царя), в котором соответствующий памятник был создан. (За каждый верный элемент ответа – 2 балла, максимальный балл за все задание – 16 баллов). Примерное время выполнения – 8 минут.




А



Б



В



Г

Буквенное обозначение архитектурных памятников	Название	Имя правителя (князя, царя)
А	Церковь пресвятой Троицы	Андрей Боголюбский -
Б	Собор Софии Киевской	Владимир Ясно Солтышко
В	Покров на Нерли	Андрей Боголюбский +
Г	Десятинная церковь	Владимир Ясно Солтышко -

**Задание №7.** Заполните пробелы в тексте, используя предложенные варианты. Ответ оформите в виде перечня элементов под соответствующими номерами. (За каждый правильно заполненный пробел – 1 балл, максимальное количество баллов за задание – 14). *Примерное время выполнения – 8 минут.*

Создателем Монгольского государства является 1. Первая битва между монголами и русским произошла на реке 2 в 3 году. Новый поход монголов был организован ханом 4 в 5 году. Первым пало 6 княжество, затем войска завоевателей вторглись в 7 княжество, князь которого 8 погиб в сражении 9. «Злым городом» монголы назвали город 10. Через год монголы разорили 11 княжества и дошли в Европе до 12 моря, а затем не стали возвращаться в Азию, а создали государство под названием 13 со столицей 14.


- |                          |  |
|--------------------------|--|
| 1) Владимиро-Суздальское | 8) Чингисхан (Темучин)                             |
| 2) Адриатическое         | 9) Юрий Всеволодович                               |
| 3) Козельск              | 10) южные (Черниговское, Переяславское, Киевское), |
| 4) Батый                 | 11) Калка  |
| 5) Сарай                 | 12) река Сить                                      |
| 6) Золотая Орда          | 13) 1223 год                                       |
| 7) 1237 год              | 14) Рязанское                                      |

145

1	2	3	4	5	6	7	8	9	10	11	12	13	14
8	11	13	4	7	14	1	9	12	3	10	2	6	5

✕ ✕ ✕ ✕ ✕ ✕ ✕ ✕ ✕ ✕ ✕ ✕ ✕ ✕

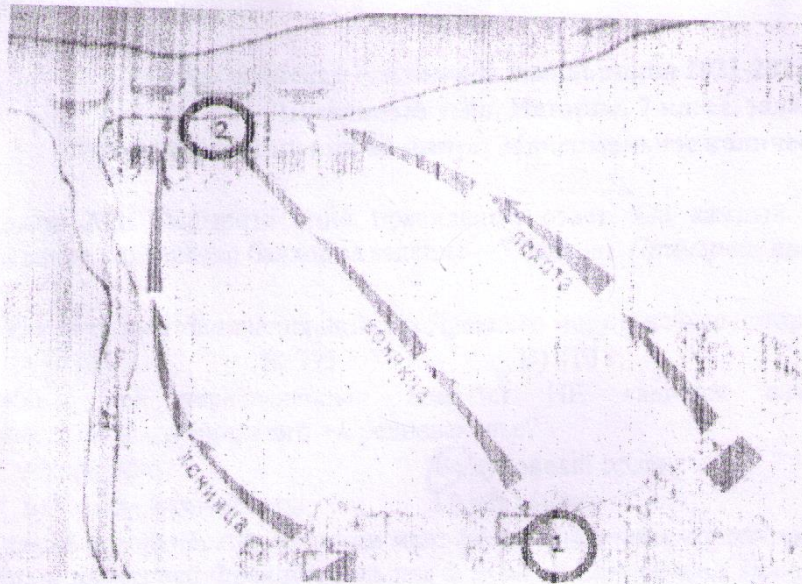
**Задание №8.** Рассмотрите изображения вывесок в средневековом городе и выполните задания. (За каждый правильный элемент ответа в 1 и 3 вопросах – по 1 баллу, за ответ на 2 вопрос – 3 балла, максимальное количество баллов за задание – 10). *Примерное время выполнения – 5 минут.*



- 8.1. Назовите профессии людей, вывески чьих мастерских или лавок здесь изображены.
- 8.2. Укажите общее название организаций, в которые объединялись средневековые ремесленники.
- 8.3. Назовите уровни иерархической структуры в этих организациях.

8.1	8.2	8.3
1. Печкарня 2. Обувная лавка 3. Мясная лавка 4. Госудная лавка	Ремесленная мастер- ская Улицы (районы) ремесленников одного ремесла	Во главе стояла старейшина. Все дел жны были его (ее) подчиняться. Оста

**Задание №9.** Внимательно рассмотрите схему и выполните задания. (За полный ответ на задания 9.1 и 9.2 – по 2 балла, за задание 9.3 – 4 балла, за задание 9.4 – 3 балла, максимальное количество баллов за задание – 11). *Примерное время выполнения – 6 минут.*



9.1. Назовите битву, схема которой представлена выше. Укажите год, когда она произошла.

9.2. Назовите государство, расположение войск которого обозначено цифрой «2». Укажите имя и отчество или прозвище полководца, который командовал войском, отмеченном на схеме цифрой «1».

9.3. Назовите еще одно сражение, в котором русские войска одержали победу под руководством этого князя. Укажите год, когда она произошла. Как в русской летописи назван боевой порядок противника, который имел форму клина?

9.4. Назовите имя герцога, возглавившего войско противника, обозначенного цифрой «2».

**Задание 10.** Прочитайте предложенный текст и ответьте на вопросы к нему. (За верный ответ на вопрос 10.1. – 3 балла, за каждый элемент ответа на вопрос 10.2 по 2 балла, за каждый элемент ответа на вопрос 10.3 по 3 балла, максимальное количество баллов за задание – 13 баллов).  
*Примерное время выполнения – 8 минут.*

В лето 1097 пришли Святополк, и Владимир, и Давид Игоревич, и Василько Ростиславич, и Давыд Святославич, и брат его Олег и собрались в (...) для устроения мира. И обращались к себе, говоря: «Зачем губим Русскую землю, сами на себя вражду воздвигая, а половцы нашу землю терзают на части и радуются, что между нами войны и доныне. С этого времени соединимся в одно сердце и будем охранять русские земли. Пусть каждый держит отчину свою...» и на том целовали крест: «Если кто пойдет на кого, то на того будем все...» и, принеся клятву, разошлись восвояси...

10.1. В каком жанре написан текст?

Текст написан в жанре летописи.

10.2. О каком событии идет речь? Каковы последствия этого события?

Речь идет о съезде в Любече. Там был создан устный договор о мире между князьями, но не все князья его выполняли.

10.3. Что означают выражения «целовать крест», «отчина»?

При заключении устного договора целовали крест. Говорилось, что если человек поцеловал крест, то он будет выполнять договор. Отчина – родина, Отечество.