

3-13
4/5

Всероссийская олимпиада школьников 2021-2022 учебный год
Школьный этап. История, 7 класс, задания.
Время выполнения 60 минут. Максимальное количество баллов – 100.

Задание №1. Выберите один правильный ответ. (За каждый правильный ответ – 1 балл, максимальное количество баллов за задание – 5 баллов). *Примерное время выполнения – 5 минут.*

- 1.1. Укажите дату окончания истории Древнего мира и начала истории Средних веков.
 А) 476 г. Б) 395 г. В) 410 г. Г) 1453 г.
- 1.2. Какое из перечисленных понятий НЕ является названием органа сословного представительства, возникшего в Средневековье?
 А) кортесы В) духовный орден
 Б) Генеральные штаты Г) парламент
- 1.3. О какой исторической личности идет речь? Старший сын короля Пипина Короткого, создал на территории нынешней Франции большое и сильное государство. После 33 военных походов, проведя чуть ли не всю жизнь в седле, он смог распространить свою власть на территорию почти всей Западной Европы.
 А) Хлодвиг В) Карл Великий
 Б) Юстиниан I Г) Иоанн Безземельный
- 1.4. Прочитайте отрывок произведения и укажите князя, о котором в нём идёт речь. «Через год пошёл войной на Корсунь. Корсуняне же крепко сражались из города. Тогда он сказал: “Если не сдадитесь, буду стоять три года”. Они же не послушались и стояли шесть месяцев. А в Корсуне был человек, по имени Анастас, он написал на стреле и пустил её к этому князю: “К колодцу в восточной стороне города по трубам поступает в город вода; перекопав, переймёшь её”».
 А) Олег Вещий В) Владимир Святой
 Б) Владимир Мономах Г) Ярослав Мудрый
- 1.5. В каком году в нашей стране отмечали 75-летие Победы в Великой Отечественной войне?
 А) 2015 году В) 2010 году
 Б) 2020 году Г) 2005 году

1.1	1.2	1.3	1.4	1.5
A +	A -	A -	A -	B +

Задание №2. Выберите несколько правильных ответов. (За каждый правильный ответ – 1 балл, максимальное количество баллов за задание – 6 баллов). *Примерное время выполнения – 4 минуты.*

- 2.1. Выберите события, относящиеся к периоду феодальной раздробленности Руси.
 А) Битва на р. Калка Г) основание Москвы
 Б) Крещение Руси Д) Походы на Константинополь князя Игоря
 В) Ледовое побоище Е) Строительство Софийского собора в Новгороде

D -	Г -	Е -
-----	-----	-----

2.2. Какие из перечисленных улиц города Красноярск названы в честь космонавтов?

- А) имени Водяникова Г) имени Тотмина
 Б) имени Николаева Д) имени Быковского
 В) имени Терешковой Е) имени Цукановой

B -	A -	D +
-----	-----	-----

Задание №3. По какому принципу образован ряд? (За каждый полный ответ – 3 балла, за ответ, требующий дополнения – 1 балл, максимальное количество баллов за задание – 9 баллов). *Примерное время выполнения – 6 минут.*

3.1. «Сказание о Мамаевом побоище», «Слово о погибели земли русской», «Задонщина».

3.2. Финифть, зернь, чернь, скань.

3.3. Рязов Борис Яковлевич, Поздеев Андрей Геннадьевич, Суриков Василий Иванович.

+ Речь идет о знаменитых русских художниках.

Задание №4. Выберите лишнее понятие из списка. Кратко поясните свой выбор. (За правильный ответ – 2 балла, за пояснение – 2 балла, максимальное количество баллов за задание – 8 баллов). *Примерное время выполнения – 4 минуты.*

4.1. Папа, аббаты, рыцари, епископы, монахи.

Лишняя – рыцари. Потому что все выше перечисленные, кроме рыцарей являются представителями духовного сос.

4.2. Поляне, северяне, радимичи, варяги.

Лишние – варяги. Потому что все вышеперечисленные, кроме варяг не напали на Русь.

Задание №5. Восстановите хронологическую последовательность дат и событий. Запишите ответ в виде последовательности номеров в задании. (За каждую правильную последовательность – 4 балла, если верная последовательность восстанавливается путём перестановки любых двух, стоящих рядом, символов – 2 балла, максимальный балл за все задание – 8 баллов). *Примерное время выполнения – 6 минут.*

5.1.

1) IX в.;

3) I век до н.э.;

5) 1240 г.;

2) 476 г. до н.э.;

4) 988 г.

6) II век до н.э.


2)	6)	3)	1)	4)	5)
----	----	----	----	----	----

5.2.

- 1) Падение Византийской империи;
- 2) Возникновение Английского парламента;
- 3) Столетняя война;
- 4) Распад Франкской империи;
- 5) Созыв Генеральных штатов во Франции;
- 6) Возникновение государств у арабов.

--	--	--	--	--	--

Задние №6. Перед Вами изображения знаменитых памятников русской архитектуры до конца XV века. Заполните таблицу: во вторую колонку таблицы запишите название изображённого архитектурного памятника, в третью колонку таблицы запишите имя правителя (князя, царя), при котором соответствующий памятник был создан. (За каждый верный элемент ответа – 2 балла, максимальный балл за все задание – 16 баллов). *Примерное время выполнения – 8 минут.*




А



Б



В



Г

Буквенное обозначение архитектурных памятников	Название	Имя правителя (князя, царя)
А		
Б		
В	Софийский собор	Князь Владимир
Г		


Задание №7. Заполните пробелы в тексте, используя предложенные варианты. Ответ оформите в виде перечня элементов под соответствующими номерами. (За каждый правильно заполненный пробел – 1 балл, максимальное количество баллов за задание – 14). *Примерное время выполнения – 8 минут.*

Создателем Монгольского государства является 1. Первая битва между монголами и русским произошла на реке 2 в 3 году. Новый поход монголов был организован ханом 4 в 5 году. Первым пало 6 княжество, затем войска завоевателей вторглись в 7 княжество, князь которого 8 погиб в сражении 9. «Злым городом» монголы назвали город 10. Через год монголы разорили 11 княжества и дошли в Европе до 12 моря, а затем не стали возвращаться в Азию, а создали государство под названием 13 со столицей 14.

- | | |
|--------------------------|--|
| 1) Владимиро-Суздальское | 8) Чингисхан (Темучин) |
| 2) Адриатическое | 9) Юрий Всеволодович |
| 3) Козельск | 10) южные (Черниговское, Переяславское, Киевское), |
| 4) Батый | 11) Калка |
| 5) Сарай | 12) река Сить |
| 6) Золотая Орда | 13) 1223 год |
| 7) 1237 год | 14) Рязанское |

1	2	3	4	5	6	7	8	9	10	11	12	13	14
8) +	11) +	13) +	4) +	4) +	1) -	14) -	9) +	12) +	3) +	10) +	2) +	6) +	5) +


Задание №8. Рассмотрите изображения вывесок в средневековом городе и выполните задания. (За каждый правильный элемент ответа в 1 и 3 вопросах – по 1 баллу, за ответ на 2 вопрос 3 балла, максимальное количество баллов за задание – 10). *Примерное время выполнения – 5 минут.*




1.



2.



3.

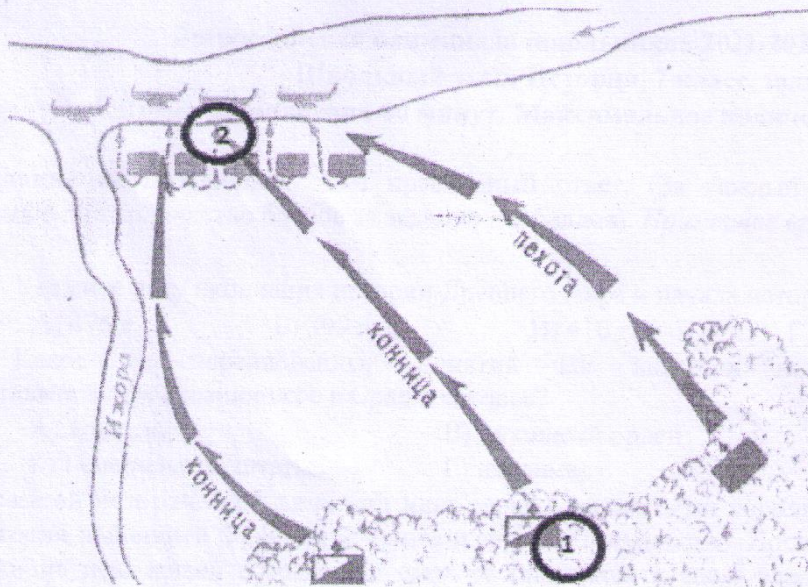


4.

- 8.1. Назовите профессии людей, вывески чьих мастерских или лавок здесь изображены.
- 8.2. Укажите общее название организаций, в которые объединялись средневековые ремесленники.
- 8.3. Назовите уровни иерархической структуры в этих организациях.

8.1	8.2	8.3
1. Печарь или су- лочник. + 2. Сапожник + 3. Мясник. + 4. Молочник -	Предприниматели.	Молочное произво- дство, мясное произ- водство, мучное производство, са- пожное ремесло.

Задание №9. Внимательно рассмотрите схему и выполните задания. (За полный ответ на задания 9.1 и 9.2 – по 2 балла, за задание 9.3 - 4 балла, за задание 9.4 – 3 балла, максимальное количество баллов за задание – 11). *Примерное время выполнения – 6 минут.*



9.1. Назовите битву, схема которой представлена выше. Укажите год, когда она произошла.

9.2. Назовите государство, расположение войск которого обозначено цифрой «2». Укажите имя и отчество или прозвище полководца, который командовал войском, отмеченном на схеме цифрой «1».

9.3. Назовите еще одно сражение, в котором русские войска одержали победу под руководством этого князя. Укажите год, когда она произошла. Как в русской летописи назван боевой порядок противника, который имел форму клина?

9.4. Назовите имя герцога, возглавившего войско противника, обозначенного цифрой «2».

Задание 10. Прочитайте предложенный текст и ответьте на вопросы к нему. (За верный ответ на вопрос 10.1. – 3 балла, за каждый элемент ответа на вопрос 10.2 по 2 балла, за каждый элемент ответа на вопрос 10.3 по 3 балла, максимальное количество баллов за задание – 13 баллов).
Примерное время выполнения – 8 минут.

В лето 1097 пришли Святополк, и Владимир, и Давид Игоревич, и Василько Ростиславич, и Давид Святославич, и брат его Олег и собрались в (...) для устроения мира. И обращались к себе, говоря: «Зачем губим Русскую землю, сами на себя вражду воздвигаая, а половцы нашу землю терзают на части и радуются, что между нами войны и доныне. С этого времени соединимся в одно сердце и будем охранять русские земли. Пусть каждый держит отчину свою...» и на том целовали крест: «Если кто пойдет на кого, то на того будем все...» и, принеся клятву, разошлись восвоися...

10.1. В каком жанре написан текст?

Повесть

10.2. О каком событии идет речь? Каковы последствия этого события?

+ Речь идет о ярославском съезде. Установлен порядок престолонаследия от отца к сыну.

10.3. Что означают выражения «целовать крест», «отчина»?

Отчина – земля, передаваемая по наследству от отца.
Целовать крест – приносить клятву, почитать Бога.